












Arbeitsauftrag 5

Schau dir die in der folgenden Tabelle angeführten Pflanzen an. Kreuze die Teile der Pflanzen an, von denen du vermutest, dass sie gegessen werden können. Führe auch Beispiele von Organismen, die sie zu sich nehmen, an:

Pflanze	
 Rose	 Apfelbaum
 Gras	 Himbeere

8. Organismen brauchen Energie und bestimmte Substanzen zum Leben

Denke nach, ob die in der Tabelle angeführten Obstarten Samen beinhalten oder nicht. Notiere und überprüfe deine Vermutungen:

	Vermutung	Überprüfung
 Apfel		
 Weintraube		
 Karotte		
 Paprika		
 Tomate		
 Zwiebel		
 Brokkoli		

8. Organismen brauchen Energie und bestimmte Substanzen zum Leben

Diskutiere in Gruppen darüber, welche Obst- und Gemüsearten du noch kennst. Notiere sie in die Tabelle und ordne sie zu dem Teil der Pflanze, die normalerweise konsumiert wird, zu. Falls du dir nicht sicher bist, um welchen Teil der Pflanze es sich handelt, suche Informationen im Internet oder in einer Enzyklopädie:

Pflanzenstängel	
Blätter	
Wurzel	
Blüte	