





5. Die Zusammensetzung der Erde und ihrer Atmosphäre sowie die dort ablaufenden Prozesse prägen die Erdoberfläche und das Klima

Arbeitsauftrag 3

Erkunde die folgenden Gesteine. Konzentriere dich auf ihr Aussehen, ihren Geruch, ihre Oberfläche und ihre Splitterfestigkeit. Führe deine Beobachtungen in der Tabelle an:

				
Gestein 1				
Gestein 2				
Gestein 3				

Was ist diesen Gesteinen eurer Meinung nach gemeinsam und worin unterscheiden sie sich?

Gemeinsam	Unterschiedlich

Denke darüber nach und mache Vorschläge für die Verwendung dieser Gesteine.