







5. Die Zusammensetzung der Erde und ihrer Atmosphäre sowie die dort ablaufenden Prozesse prägen die Erdoberfläche und das Klima

5.2.2 Bewölkung

Arbeitsauftrag 1

Beobachte die Wolkenveränderungen im Verlauf des Tages. Notiere alle zwei Stunden ihre Form, Farbe, Menge der Wolken und die aktuelle Wetterlage:

Zeit	Form	Farbe	Wolkenbedeckung des Himmels	Wetter
				
				
				
				
				
				

Versucht, aufgrund eurer Beobachtungen eine Schlussfolgerung zu formulieren: