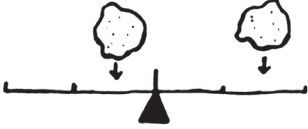
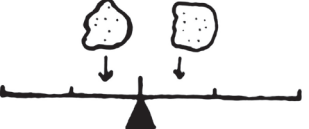




Arbeitsauftrag 6

Du hast zwei Klumpen aus Knete und weißt nicht, welcher schwerer ist. Du hast dich entschieden, eine Waage zu benutzen, um dies herauszufinden. Wie sollen die Klumpen auf die Waage gelegt werden, um herausfinden zu können, welcher schwerer ist?

	Vermutung		Vermutung
	Überprüfung		Überprüfung
	Vermutung		Vermutung
	Überprüfung		Überprüfung