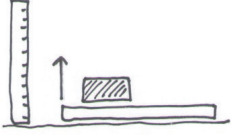
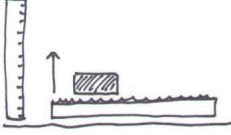
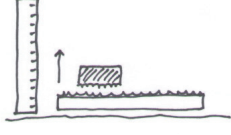


### Arbeitsauftrag 25

Hängt die Größe der Reibungskraft von der Oberfläche, auf der der Gegenstand gleitet, ab?

Bewegung auf unterschiedlich rauher Oberfläche		Messung 1	Messung 2	Messung 3
Ein Gegenstand auf einem glatten Brett				
Ein Gegenstand auf einem mit Stoff überzogenem Brett				
Ein im Stoff gewickelter Gegenstand auf einem mit Stoff überzogenem Brett				
<b>Schlussfolgerung:</b> 				