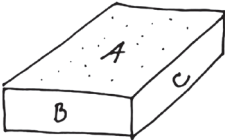
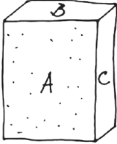
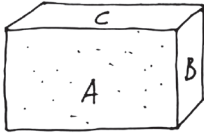


Arbeitsauftrag 24

Hängt die Größe der Reibungskraft von der Größe der Kontaktstelle zwischen dem Gegenstand und der Oberfläche, auf der er gleitet, ab? Verwende dieselbe Arbeitsvorgehensweise wie in der vorherigen Aufgabe. Das Gewicht des Gegenstandes muss gleich bleiben. Verwende deswegen zum Beispiel einen Holzquader, den du aus verschiedenen Seiten auf das Brett legen wirst.

| | | | | | |
|---|--|---|--|--|--|
|  | |  | |  | |
| Vermutung | | Vermutung | | Vermutung | |
| Überprüfung | | Überprüfung | | Überprüfung | |
| Schlussfolgerung: | | | | | |