





Arbeitsauftrag 21

Welches Auto wird am schnellsten runterkommen? Das mit oder das ohne Ladung? Hängt es von der Länge des Brettes, auf dem das Auto runterrollt, ab?

50/300 cm Brett	Vermutung	Überprüfung
 <p>50 cm</p>		
 <p>50 cm</p>		
50/300 cm Brett	Vermutung	Überprüfung
 <p>300 cm</p>		
 <p>300 cm</p>		
Schlussfolgerung:		