





### Arbeitsauftrag 18

Finde heraus, ob ein Magnet Büroklammern verschiedener Größen aus derselben Entfernung anzieht. Wiederhole die Messung für jede Büroklammer dreimal. Formuliere eine Schlussfolgerung aufgrund der Beobachtungen.

**Schlussfolgerung:**