





### Arbeitsauftrag 9

Wie kann man einen Gegenstand möglichst weit wegschießen? Beobachte die hier angeführten vier Techniken des Steinschleuderschießens und markiere die Reihenfolge der Entfernung vom Ort des Schießens. Die Nummer 1 steht für die kleinste und die Nummer 4 für die größte Entfernung.

A		B		C		D	
							
Vermutung		Vermutung		Vermutung		Vermutung	
Überprüfung		Überprüfung		Überprüfung		Überprüfung	
Schlussfolgerung:							