







8. Organismy jsou závislé na příjmu energie a látek, o které soupeří s jinými organismy

Úkol 2

Na kterých předmětech se podle vás vytvoří plíseň? Roztřídte předměty, na kterých se podle vás plíseň vytvoří a na kterých ne.

Předmět	Předpoklad	Ověření
 jablko		
 chléb		
 pomeranč		
 sýr		
 mince		
 lžička		

8. Organismy jsou závislé na příjmu energie a látek, o které soupeří s jinými organismy

Navrhněte postup, jak byste své předpoklady mohli ověřit. Nezapomeňte uvést i pomůcky a to, co očekáváte, že nastane:

--

Za jakých podmínek se vytvoří plíseň? Do tabulky zaznamenejte podmínky, které budete zkoumat.

	Světlo	Voda	Teplo	Půda	Předpoklad	Ověření
1.						
2.						
3.						
4.						
5.						

Pokuste se vytvořit závěr svého zkoumání:

--