












8. Organismy jsou závislé na příjmu energie a látek, o které soupeří s jinými organismy**Úkol 5**

Prohlédněte si rostliny v následující tabulce. Zakroužkujte ty části rostliny, které lze podle vás konzumovat. Uveďte při nich i příklad jejich konzumenta:

Rostlina	
 růže	 jabloň
 tráva	 malina

8. Organismy jsou závislé na příjmu energie a látek, o které soupeří s jinými organismy

Popřemýšlejte, zda ovoce a zelenina v tabulce obsahuje semena nebo ne. Své předpoklady zaznamenejte a následně ověřte:

	Předpoklad	Ověření
 jablko		
 hroznové víno		
 mrkev		
 paprika		
 rajče		
 cibule		
 brokolice		

8. Organismy jsou závislé na příjmu energie a látek, o které soupeří s jinými organismy

Promluvte si ve skupině, jaké ovoce a zeleninu ještě znáte. Zapište je do tabulky k té části, kterou z nich konzumujeme. Pokud si nejste jisti, o jakou část rostliny jde, vyhledejte informace na internetu nebo v encyklopedii:

Stonek	
Listy	
Kořen	
Květ	