









5. Složení Země a její atmosféry; procesy, které ovlivňují povrch Země a její klima

5.2.1 Vítr

Úkol 1

Pokuste se navrhnout postup, jak byste uměli změřit směr větru pomocí poskytnutého materiálu:

			
PET láhev	Špendlíky	Nůžky	Tužka
			
Špejle	Papírový talíř	Kompas	Lepicí páska
Návrh:			

Pokuste se směrovník zkonstruovat podle vytvořeného návrhu a ověřte, zda funguje. Následně vytvořte závěr ze svého zkoumání: