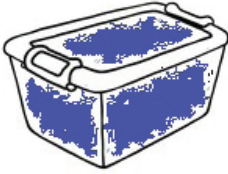
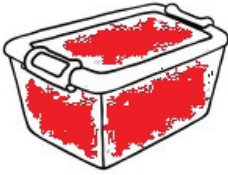






Úkol 7

Prodiskutujte ve skupině, ve které nádobě roztaje led nejrychleji. Nádoby uspořádejte od té, kde podle vás roztaje nejméně ledu (označte č. 1) až po tu, kde roztaje nejvíce ledu (označte č. 5):

	Předpoklad	Ověření
 <p>Modrá</p>		
 <p>Červená</p>		
 <p>Bílá</p>		
 <p>Černá</p>		
 <p>Žlutá</p>		

5. Složení Země a její atmosféry; procesy, které ovlivňují povrch Země a její klima

Porovnejte svá zjištění s předpoklady a pokuste se vytvořit závěr svého zkoumání:

A large empty rectangular box with a thin black border, intended for the student to write their conclusions and compare their findings with their initial assumptions.