


## Úkol 11

Popřemýšlejte, co se podle vás stane se sklenicí s teplou a studenou vodou, pokud ji přikryjeme druhou sklenicí. Své předpoklady zakreslete/zapište do obrázků:



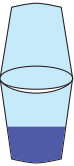
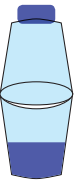
Zakreslete/zapište změny, které nastaly na položené sklenici při různých teplotách vody. Následně se pokuste vytvořit závěr vašeho zkoumání:

	Změny na sklenici:
Voda s ledem	
Horká voda	
Voda pokojové teploty	

## 5. Složení Země a její atmosféry; procesy, které ovlivňují povrch Země a její klima

Pokuste se napsat závěr toho, co jste zjistili svým zkoumáním:

Popřemýšlejte, co se podle vás stane se sklenicí s horkou vodou, pokud ji přikryjeme druhou sklenicí a na jednu z nich umístíme kostku ledu. Své předpoklady zakreslete/zapište do obrázků a následně ověřte:

	Změny na sklenici:	
	Předpoklad	Ověření
		
		

Pokuste se napsat závěr toho, co jste zjistili svým zkoumáním: