




Úkol 9

Přemýšlej, jak podle tebe ovlivňuje sklon solárního článku k světelnému zdroji jeho funkčnost. Do tabulky zaznamenej své předpoklady o tom, kdy se podle tebe vrtulka na motoru, která je napojena na solární článek, bude pohybovat a kdy ne. Své předpoklady ověř a zjištění zapiš.

	 <p>baterika</p> <p>vodorovně</p>	 <p>baterika</p> <p>šikmo nakloněné</p>	 <p>baterika</p> <p>svisle</p>
Předpoklad			
Ověření			
Závěr:			