






Úkol 6

Vyzkoušejte si funkci spínače.

| | | | | |
|---|---|---|--|---|
|  |  |  |  |  |
| zavřený spínač | zavřený spínač | otevřený spínač | bez spínače | zavřený spínač |
| Ověření | | | | |
| Závěr z pozorování: | | | | |

Navrhněte z dostupných materiálů vlastní spínač na elektrický obvod se žárovkou.

Svůj návrh zdůvodněte: