





Úkol 5a

Zkoumej, jakým způsobem je možné rozsvítit žárovku. Vytvoř předpoklady, kdy se žárovka rozsvítí a kdy ne.

				
Předpoklad				
Ověření				