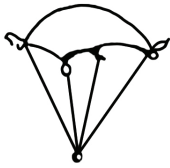
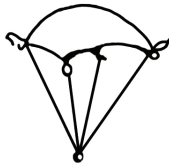
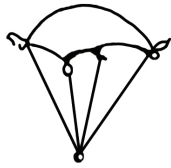
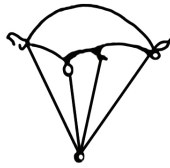
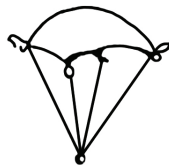
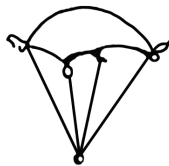


Úkol 5

Který materiál je pro vytvoření padáku nejvhodnější (který zpomaluje pád nejvíce)? Pokuste se popsat, jaké vlastnosti by měl mít materiál, pomocí kterého by bylo možné vytvořit nejlepší padák. Vytvořte stejné padáky z různých materiálů a ověřte si své předpoklady.

			
tyl	šifon	celofán	mikroten
lepší:		lepší:	

	
nejlepší:	

Na základě zjištění popište, jaké vlastnosti má mít ideální materiál pro výrobu padáku.