





Úloha 5

Popremýšľajte v skupine, ktorá nádoba (biela alebo čierna) bude rýchlejšie strácať teplotu. Do tabuľky zapíšte pri nádobách poradie, v akom podľa vás vychladnú. Ak si myslíte, že budú chladnúť rovnako, zapíšte pri oboch nádobách číslo 1.

	Predpoklad	Overenie
		
		

Zaznačte do tabuľky pokles teploty pri bielej a čiernej nádobe každé 2 minúty. Za každý jeden dielik na teplomere (1 stupeň) vyfarbite jeden štvorček. Každé meranie zaznačte inou farbou. Postupujte tak dovtedy, kým sa teplota na teplomere neustáli:

Pokúste sa vytvoriť záver zo svojho skúmania:

--